

**Министерство образования и науки Республики Татарстан  
ВСЕРОССИЙСКАЯ ОЛИМПИАДА ШКОЛЬНИКОВ ПО ОСНОВАМ  
БЕЗОПАСНОСТИ ЖИЗНЕДЕЯТЕЛЬНОСТИ  
(ШКОЛЬНЫЙ ЭТАП)**

---

«\_\_\_\_\_» \_\_\_\_\_ 2016 г.

Республика Татарстан

**ТЕОРЕТИЧЕСКИЙ ТУР  
5-6 классы**

Впишите свой код/шифр		

***Уважаемый участник Олимпиады!***

*При выполнении заданий теоретического тура Вам предстоит выполнить определенную работу, которую лучше организовать следующим образом:*

- не спеша, внимательно прочитайте задание и входящие в него вопросы или ситуации;*
- определите, наиболее верный и полный ответ;*
- если вы отвечаете на теоретический вопрос, обдумайте и сформулируйте конкретный ответ только на поставленный вопрос;*
- если вы отвечаете на предложенную ситуацию, обдумайте порядок и последовательность действий по предложенной ситуации и впишите ответы в схему в той последовательности, которую вы определили, при этом ответ должен быть кратким, но содержать необходимую информацию;*
- если вы отвечаете на задание, связанное с заполнением таблицы, не старайтесь детализировать информацию, вписывайте только те сведения или данные, которые указаны в вопросе или верхних графах;*
- после выполнения всех предложенных заданий еще раз удостоверьтесь в правильности выбранных вами ответов и решений;*

***Задание теоретического тура по данной предметной секции считается выполненным, если Вы вовремя сдаете его членам жюри.***

***Желаем вам успеха!***

**Оценка за Теоретический блок \_\_\_\_\_ баллов (максимальная 50 баллов)**

**Оценка за Блок тестирования \_\_\_\_\_ баллов (максимальная 34 балла)**

**Оценка результата участника за ТЕОРЕТИЧЕСКИЙ ТУР \_\_\_\_\_ баллов  
(максимально за теоретический тур 84 балла)**



## ЗАДАНИЯ ТЕОРЕТИЧЕСКОГО ТУРА


**Задание 1.** *Перепишите текст. Вместо условных топографических знаков используйте их обозначение.*



От  путь к нашему лагерю проходил через красивейший , который



постепенно превратился в , а затем и в широкий . Чтобы



сократить наш путь мы прошли по  в сторону , ведущей к



От него до лагеря оставалось еще пара километров через  мимо



большого  по живописной , вдоль которой с одной стороны было



, а с другой небольшой , спустившись с которого мы через 5



минут вышли к нашему лагерю около старой

This image shows a blank sheet of white paper with horizontal ruling lines. The lines are evenly spaced and run across the width of the page. There are no margins, text, or other markings on the paper.

**Оценочные баллы: максимально – 15 баллов;**

Фактически набранные баллы за задание - \_\_\_\_\_.

Подписи членов жюри

**Задание 2. Закончите предложения:**

2.1 Многократное воздействие на поверхность тела разных температур посредством водных или воздушных ванн, вызывающее появление приспособленности организма к неблагоприятному воздействию низких и высоких температур, называется \_\_\_\_\_.

2.2 \_\_\_\_\_ — активная, целеустремлённая деятельность, направленная на сохранение жизни, здоровья и работоспособности в условиях автономного существования.

2.3 Вещества, которые являются основой всего живого на Земле, входят в состав клеток и выполняют в них огромное число функций, называются \_\_\_\_\_.





2.4 \_\_\_\_\_ — опасное состояние организма, наступающее после длительного или интенсивного физического или психического напряжения.


**Оценочные баллы:** максимально— **12 баллов;**

Фактически набранные баллы за задание - \_\_\_\_\_ .

Подписи членов жюри \_\_\_\_\_

**Задание 3. Опишите в правой колонке таблицы способы определения сторон света на местности:**



**Оценочные баллы:** максимально— **10 баллов;**

Фактически набранные баллы за задание - \_\_\_\_\_ .

Подписи членов жюри \_\_\_\_\_

**Задание 4.** *Напишите ответ на вопрос: «Какое правило безопасности забыла (или не знала) Красная Шапочка?»*

---

---

---

---

---

**Оценочные баллы:** максимально— **5 баллов;**

Фактически набранные баллы за задание - \_\_\_\_\_ .

Подписи членов жюри \_\_\_\_\_

**Задание 5.** *Определите обозначение предложенных дорожных знаков:*



Что означает этот дорожный знак?

---



Что означает этот дорожный знак?

---



Что означает этот дорожный знак?

---

---

---

**Оценочные баллы:** максимально— 8 баллов;

Фактически набранные баллы за задание - \_\_\_\_\_ .

Подписи членов жюри \_\_\_\_\_

<b>Баллы за задания Теоретического блока</b>					
<i>№ задания</i>	1	2	3	4	5
<i>Кол-во баллов</i>					

**Максимальная оценка за полностью правильно выполненный Теоретический блок – 50 баллов;**

фактически набранные баллы за Теоретический блок - \_\_\_\_\_ .

Подписи членов жюри \_\_\_\_\_

### ЗАДАНИЯ ТЕОРЕТИЧЕСКОГО ТУРА (Блок тестирования)

№ п/п	Тестовые задания	Макс. балл	Кол-во набранных баллов
1	2	3	4
<b>Определите один правильный ответ</b>			
1.	<b>В салоне автобуса (трамвая, троллейбуса) вы обнаружили забытый (оставленный) кем-то сверток. Как вы поступите?</b> а) Развернете сверток, чтобы узнать, что там находится. б) Поставите в известность водителя. в). Возьмете сверток с собой, чтобы отнести в милицию.	1	

2.	<p><b>. Для регулирования дорожного движения применяются две группы светофоров:</b></p> <p>а). транспортные и пешеходные;</p> <p>б). информационные и указательные;</p> <p>в). сервиса и приоритета;</p> <p>г). Предупреждающие и запрещающие.</p>	1	
3.	<p><b>Какая обувь защищает от укуса змей</b></p> <p>а). Резиновые сапоги</p> <p>б). Кроссовки</p> <p>в). Сандалии</p>	1	
4.	<p><b>Как поступить в условиях автономного существования при нахождении источника воды?</b></p> <p>а) вскипятить воду, а потом пить;</p> <p>б) прополоскать рот остуженной водой и лишь потом пить;</p> <p>в) пить сразу – маленькими глотками, с перерывами не спеша.</p>	1	
5.	<p><b>Как называются лица, находящиеся вне транспортного средства на дороге и не производящие ремонтные работы, в том числе инвалиды в коляске, а также лица, ведущие велосипед, мотоцикл или тележку?</b></p> <p>а) водители;</p> <p>б) пешеходы;</p> <p>в) участники дорожного движения;</p> <p>г) дорожный рабочий.</p>	1	
6.	<p><b>Что нужно делать, попав в грозу в поле?</b></p> <p>а) встать под одиноко стоящее дерево;</p> <p>б) говорить по мобильному телефону;</p> <p>в) трогать металлические предметы;</p> <p>г) спрятаться в яме, канаве, низине;</p>	1	
7.	<p><b>Прежде, чем выбрать и купить продукт в упаковке, что обязательно нужно рассмотреть на бутылке?</b></p> <p>а) какой рисунок нарисован на этикетке;</p> <p>б) объем воды и полноту заполнения бутылки;</p> <p>в) дату выпуска и срок годности;</p> <p>г) штрих-код на этикетке.</p>	1	
8.	<p><b>Где может двигаться пешеход на загородной дороге при отсутствии тротуара и обочины?</b></p> <p>а) по разделительной полосе;</p> <p>б) по левому краю проезжей части;</p> <p>в) по правому краю проезжей части.</p>	1	
9.	<p><b>Вы дома один, обнаруживаете, что одна из розеток нагрелась и искрит. Как следует поступить?</b></p> <p>а) не приближаться к ней, ждать возвращения родителей;</p> <p>б) надеть резиновые перчатки, взять отвертку и попытаться устранить замыкание проводов;</p> <p>в) отключить электричество в щитке и дождаться родителей.</p>	1	

10.	<p><b>Когда на перекрестке стоит регулировщик. Чем вы должны руководствоваться, переходя перекресток?</b></p> <p>а) сигналами пешеходного светофора;  б) транспортного светофора;  в) сигналами регулировщика;  г) дорожной разметкой.</p>	1	
11.	<p><b>Если помещение быстро наполняется дымом, то тебе следует:</b></p> <p>а) открыть окна для проветривания помещения;  б) найти источник дыма и устранить его;  в) закрыть рот и нос влажной тканью и покинуть помещение.</p>	1	
12.	<p><b>У вас возникла необходимость обратиться к водителю. Как вы это сделаете?</b></p> <p>а) в момент, когда автобус (трамвай, троллейбус) тронется с места;  б) при движении автобуса (трамвая, троллейбуса);;  в) после полной остановки автобуса (трамвая, троллейбуса).</p>	1	
13.	<p><b>При устройстве навеса или шалаша крышу следует накрывать:</b></p> <p>а) сверху - вниз;  б) справа - налево;  в) снизу – вверх;  г) безразлично как.</p>	1	
14.	<p><b>Куда обращен приподнятый край нижней перекладины креста на куполе церкви?</b></p> <p>а) к востоку.  б) к западу.  в) к югу.  г) к северу.</p>	1	
15.	<p><b>Знак Х, в международной кодовой таблице сигналов означает...</b></p> <p>а) не имеем возможности передвигаться.  б) место для посадки.  в) требуется карта.</p>	1	
16.	<p><b>В условиях автономного существования нельзя есть</b></p> <p>а) лапки лягушек.  б) гусениц.  в) водяных жуков.</p>	1	
17.	<p><b>По сигналу оповещения «Внимание всем!» необходимо:</b></p> <p>а) включить телевизор или радиоприемник на местном канале передач и слушать сообщение;  б) закрыть окна, быстро собрать все необходимое для эвакуации, идти в убежище;  в) быстро собрать все необходимое для эвакуации, отключить электроэнергию и идти на сборный пункт.</p>	1	
18.	<p><b>Как быстрее всего сбить пламя, вспыхнувшее на человеке?</b></p> <p>а) облить его водой.  б) накрыть плотной тканью (одеялом).  в) повалить на землю и, перекатывая, сбить пламя.</p>	1	

19.	<p><b>Дополните информацию: « Покидая здание при пожаре, ни в коем случае нельзя пользоваться...</b></p> <p>а) телефоном. б) лифтом в) пожарной лестницей г) водопроводом.</p>	1	
20.	<p><b>Вы опаздываете на электричку. Перед вами на путях стоит товарный состав. Ваши действия:</b></p> <p>а) Обойти состав. б) Пролезть между вагонами. в) Пролезть под вагонами стоящего поезда. г) Воспользоваться переходом.</p>	1	
<b>Определите все правильные ответы</b>			
21.	<p><b>При пожаре в любом задымлённом помещении (в здании, в транспорте...) нужно помнить...</b></p> <p>а). Чем лучше спрячешься, тем безопаснее для тебя б). Необходимо передвигаться к выходу на четвереньках или ползком и дышать через влажную ткань, прикрыв ею рот и нос в). Страшен только открытый огонь г) Не паниковать, действовать уверенно</p>	2	
22.	<p><b>Водителю велосипеда запрещается:</b></p> <p>а) двигаться по проезжей части улицы при наличии рядом велосипедной дорожки б) иметь звуковой сигнал в) двигаться при неисправности тормозной системы г) ездить на велосипеде, не держась за руль хотя бы одной рукой</p>	3	
23.	<p>Как действовать при возгорании телевизора?</p> <p>а) Обеспечить доступ воздуха б) Сразу после возгорания залить телевизор водой в) Быстро обесточить телевизор г) Накрыть его плотной тканью</p>	2	
24.	<p><b>Меры, которые необходимо предпринимать, чтобы чувствовать себя уверенно при купании:</b></p> <p>а) не раздумывая, нырять и прыгать в воду в незнакомых местах б) научиться плавать и постоянно соблюдать правила безопасного поведения на воде в) устраивать в воде игры, связанные с захватами г) заплывать за буйки. д) купаться в специально отведенных местах</p>	2	
25.	<p><b>При глубоком порезе пальца необходимо :</b></p> <p>а). Зажать место пореза большим пальцем или носовым платком на несколько минут б). Наложить жгут в). Сделать тугую перевязку г). Заклеить рану пластырем</p>	3	



	д).Обработать место пореза йодом		
26.	<b>Какой лед наиболее прочен?</b> а). Белого цвета б). Имеющий синеватый оттенок в). Матового цвета г). С зеленоватым оттенком д). Прозрачный	2	
<b>Количество баллов</b>		<b>max 34</b>	

**Максимальная оценка за полностью правильно выполненный**

**Тестового блока– 34 баллов;**

*фактически набранные баллы за Тестовый блок - \_\_\_\_\_ .*

*Подписи членов жюри \_\_\_\_\_*